



Stef is in de tuin aan het voetballen met Jordi en Teun. Om de beurt mogen ze een penalty (strafschop) nemen. Teun heeft al 7 doelpunten gemaakt, Stef 18 en Jordi 17.

Hoeveel doelpunten maakten de broertjes samen?



De boeven Bas en Billy breken in bij de Media Markt. Ze nemen 15 televisies en 27 Ipads mee.

Hoeveel spullen hebben Bas en Billy gestolen?



Fenna en Liselotte spelen een spel. Fenna staat op vakje 24 en Liselotte op vakje 18. Liselotte is aan de beurt. Ze gooit 6. Fenna zegt: "Nu haal je me in."

Klopt dat?



Ilifat is aan het kleuren tijdens de overblijf. Hij telt de stiften op tafel. Het zijn er 21. Sem zegt: "Ik heb er drie meer."

Hoeveel stiften hebben Sem en Ilifat samen?





Het is 4 februari. Op 22 februari is Denzell jarig.

Hoeveel nachtjes moet Denzell nog slapen?



Lulu heeft met Sinterklaas heel veel peppernoten gekregen. Ze heeft er 27 en krijgt er nog 16 bij, want haar grote broer eet liever schuimpjes.

Hoeveel peppernoten heeft Lulu in totaal?



Merijn is aan het lezen in een boek over ridders. Het boek heeft 88 bladzijdes. Gisteravond was hij precies op de helft.

Op welke bladzijde was Merijn gisteravond?



Mevrouw Pot-Lood is een brief aan het schrijven. Ze heeft al 33 woorden geschreven, maar ze wil graag het dubbele.

Hoeveel is het dubbele van 33?





Kian gaat naar de camping. Na 35 kilometer moet hij plassen. Hij is dan op de helft.

Hoeveel kilometer moet Kian rijden naar de camping?




Dennis is aan sparen voor een nieuwe fiets. Die kost 100 euro. Dennis heeft al 51 euro gespaard.

Is dat meer of minder dan de helft?



Mevrouw Plus gaat naar de winkel. Ze koopt voor 25 euro aan eten. Ze heeft ook nog andere spullen gekocht. Die kosten samen 37 euro.

Hoeveel moet mevrouw Plus betalen bij de kassa?



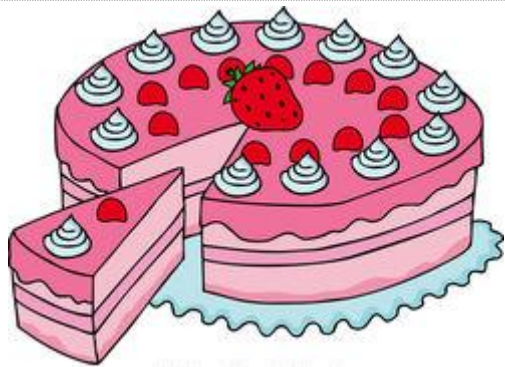
PRIJSLIJST

HEREN WASSEN, KNIPPEN EN DROGEN	€ 21,00
DAMES WASSEN, KNIPPEN EN DROGEN	€ 22,00
KINDEREN KNIPPEN (T/M GROEP 8)	€ 13,50

Meneer en mevrouw Stekel gaan naar de kapper. Ze willen allebei hun haar laten, wassen, knippen en drogen.

Wat moet de familie Stekel samen betalen?





Bakkertje Jee verkoopt in een week 7 kersentaarten, 8 aardbeientaarten en 12 chocoladetaarten.

Hoeveel taarten verkoopt Bakkertje Jee bij elkaar?



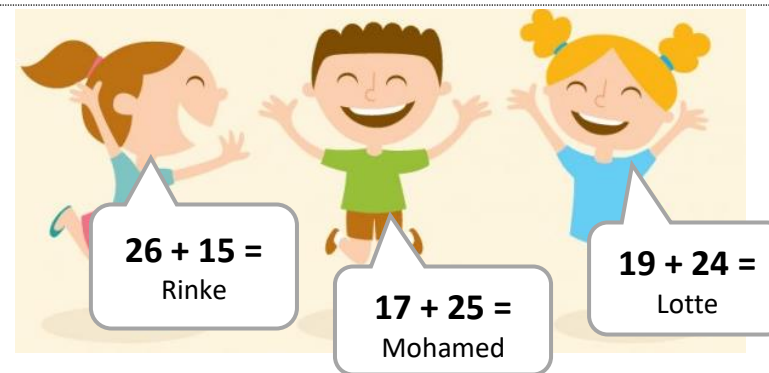
Teije is een verhaal aan het schrijven. Hij heeft al 24 bladzijdes vol. Teije is al op de helft.

Hoeveel bladzijdes heeft het verhaal als het af is?



Timo heeft 60 knikkers gesorteerd op kleur. Hij heeft 19 rode en 24 gele. De rest is blauw.

Hoeveel blauwe knikkers heeft Timo?



Rinke, Mohamed en Lotte hebben alle drie een hardloopwedstrijd gewonnen. Ze moesten twee wedstrijden hardlopen.


Wie heeft de meeste punten gehaald?





Miquel heeft 29 voetbalplaatjes gespaard. Van zijn beste vriend krijgt Miquel nog 16 voetbalplaatjes.

Hoeveel plaatjes heeft Miquel bij elkaar?



Tijdens het WK maakte Team 1 maar liefst 18 doelpunten in alle wedstrijden en Team 2 de helft ervan.

Hoeveel doelpunten maakten Team 1 en 2 samen?



Morgen komt de schoolfoto. In de klas van juf Nienke zitten 13 meisjes en 18 jongens. Op de dag van de schoolfoto is er gelukkig niemand ziek.

Hoeveel kinderen staan er op de schoolfoto?



Mila heeft tijdens haar vakantie 41 foto's gemaakt. Haar vriendin Julia heeft er 59 gemaakt.

Hoeveel vakantiefoto's hebben ze in totaal?





De klas van meester Nick doet mee aan een sponsorloop. De vrienden Ties, Dalilah, Jente en Gijs doen ook mee en ze halen samen een aardig bedrag bij elkaar.

Hoeveel geld hebben de vrienden samen verzameld?



De Kinderboekenweek is begonnen. Rolf heeft al 34 bladzijdes gelezen uit zijn boek. Ineke is net begonnen en heeft pas 11 bladzijdes gelezen.

Hoeveel bladzijdes hebben ze samen al gelezen?



Bart en Tanja zijn op wintersport. Bart is al 12 keer van de piste afgedaald en Tanja al 19 keer. Hun vader houdt niet zo van skiën, maar is toch al 3 keer naar beneden gegaan.

Hoe vaak zijn Bart, Tanja en hun vader al afgedaald?



In het spaarvarken van Ronnie zit al 46 euro. Ronnie heeft zijn vader geholpen met enkele klusjes en heeft daarmee 8 euro verdiend.

Hoeveel geld heeft Ronnie bij elkaar gespaard?





De familie Maas gaat naar de dierentuin. Ze gaan met twee volwassenen en twee kinderen. Een kaartje voor een volwassene kost 10 euro. Een kinderkaartje 7 euro.

Hoeveel moet de familie Maas in totaal betalen?



Gio gaat met de trein naar zijn oma in Leiden. Gio stapt in Utrecht op de trein. De reis naar Amsterdam duurt 35 minuten. In Amsterdam stapt hij over. Het laatste stuk van de reis duurt 25 minuten.

Hoe lang duurt de treinreis van Gio in totaal?



Meneer Touw gaat naar Bink's Bloemenwinkel en koopt er twee boeketten. Het ene boeket kost 17 euro, het andere boeket 14 euro.

Hoeveel moet meneer Touw bij elkaar betalen?



Omdat het zo warm is, trakteert de vader van Sil op waterijs. Sil kiest een meloenijsje, Mick voor het ijsje met sinaasappelsmaak en pappa zelf kiest voor het kiwi-ijsje.

Wat kosten de drie ijsjes samen?





Bij Michiel thuis hangen er gekleurde lampjes in de kerstboom. 12 paarse, 15 gele, 14 blauwe en 13 rode.

Hoeveel lampjes hangen er in totaal in de kerstboom?



In de toverdrank van de heks moeten 11 muizenstaartjes, 7 kauwgomballen (voor de kleur) en 9 snotjes van een verkouden kangoeroe. Bij alles wat de heks in de toverdrank doet, doet ze er ook een schepje mierenzuur bij.

Hoeveel schepjes mierenzuur moeten er in de drank?



Bas en Billy, zijn via een geheim gang in de kluis van de bank gekomen. Ze nemen stapels met geld mee. Bij elkaar 300 euro. Het goud dat ze meenemen, is 600 euro waard.

Hoeveel is de buit van Bas en Billy waard?



In de brandweerauto van Sputdorp liggen vier brandweerslangen. Twee slangen zijn 15 meter lang. De andere twee slangen zijn 8 en 7 meter lang.

Hoeveel meter brandweerslang ligt er in de auto?

