

# Topografie

## Provincies en hoofdsteden



## ★ Kaart met provincies en hoofdsteden



Provincie	Hoofdstad	Provincie	Hoofdstad
Friesland	Leeuwarden	Overijssel	Zwolle
Groningen	Groningen	Gelderland	Arnhem
Drenthe	Assen	Utrecht	Utrecht
Flevoland	Lelystad	Zeeland	Middelburg
Noord-Holland	Haarlem	Noord-Brabant	's Hertogenbosch
Zuid-Holland	Den Haag	Limburg	Maastricht

## ★ Zelf gaan oefenen

Op de volgende bladzijdes staan een aantal kaarten van Nederland waarmee je zelf kunt gaan oefenen. Print ze uit en ga aan de slag!

## ★ Topokaart 1

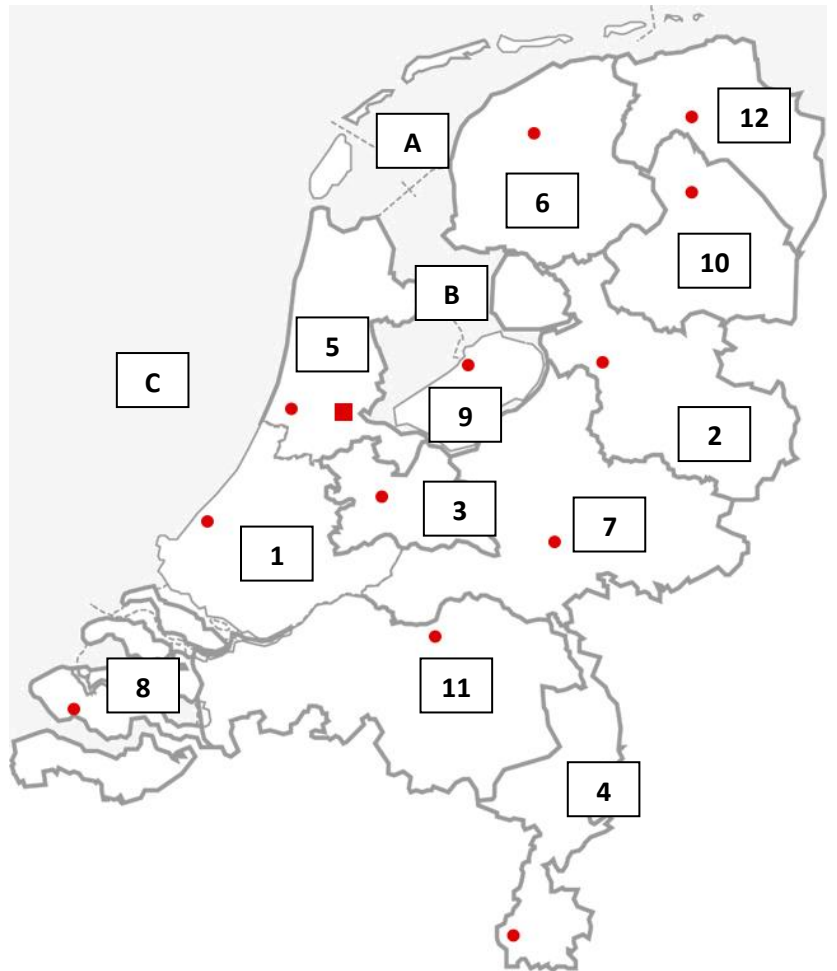
Vul de namen van de provincies en hoofdsteden bij het juiste nummer in.

### Wateren

A. \_\_\_\_\_

B. \_\_\_\_\_

C. \_\_\_\_\_



Provincie	Hoofdstad
1.	
2.	
3.	
4.	
5.	
6.	
7.	
8.	
9.	
10.	
11.	
12.	

## ★ Topokaart 2

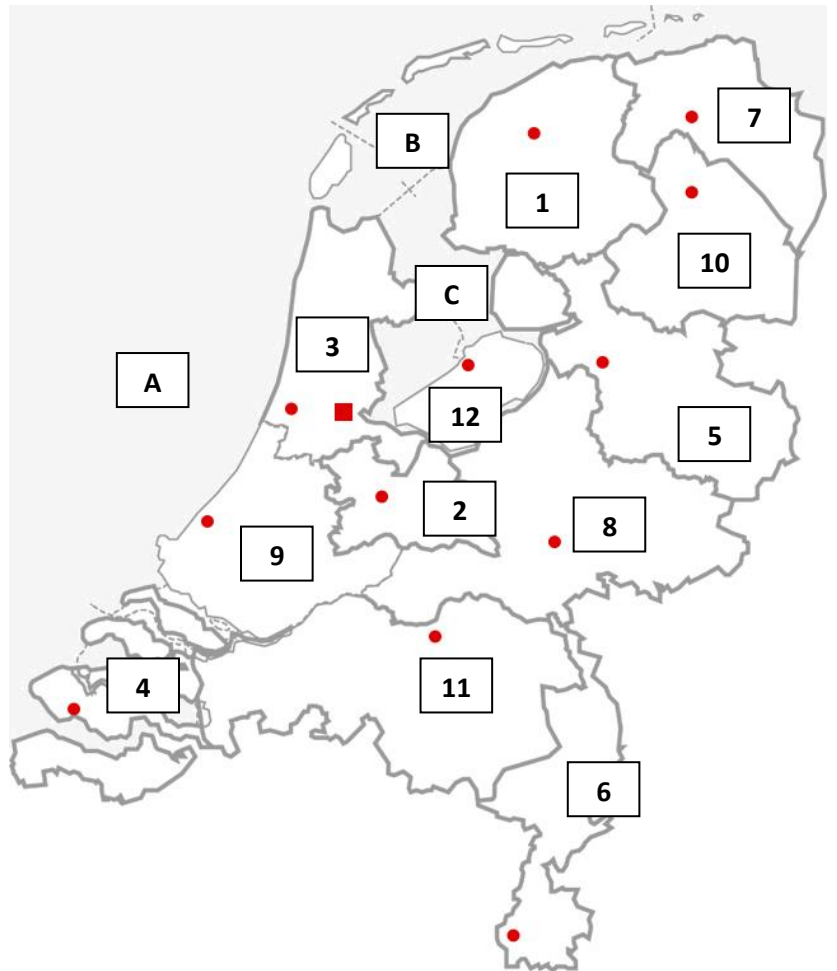
Vul de namen van de provincies en hoofdsteden bij het juiste nummer in.

### Wateren

A.

B.

C.



Provincie	Hoofdstad
1.	
2.	
3.	
4.	
5.	
6.	
7.	
8.	
9.	
10.	
11.	
12.	

### ★ Topokaart 3

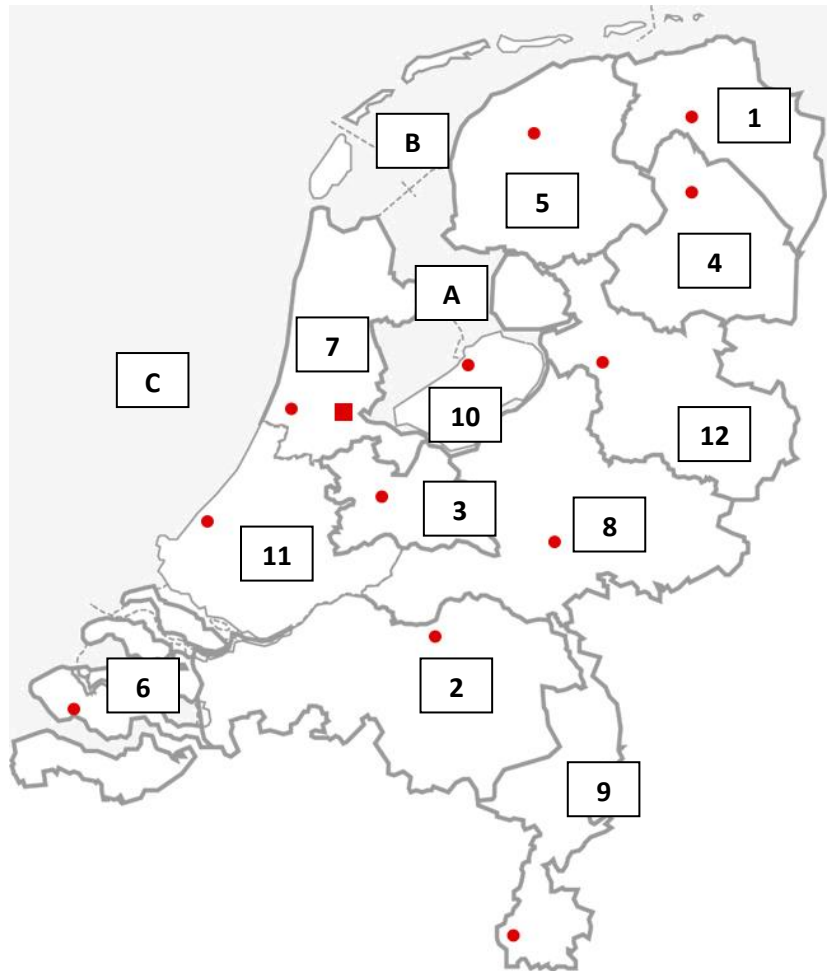
Vul de namen van de provincies en hoofdsteden bij het juiste nummer in.

#### Wateren

A. \_\_\_\_\_

B. \_\_\_\_\_

C. \_\_\_\_\_



Provincie	Hoofdstad
1.	
2.	
3.	
4.	
5.	
6.	
7.	
8.	
9.	
10.	
11.	
12.	



## ★ Topokaart 4

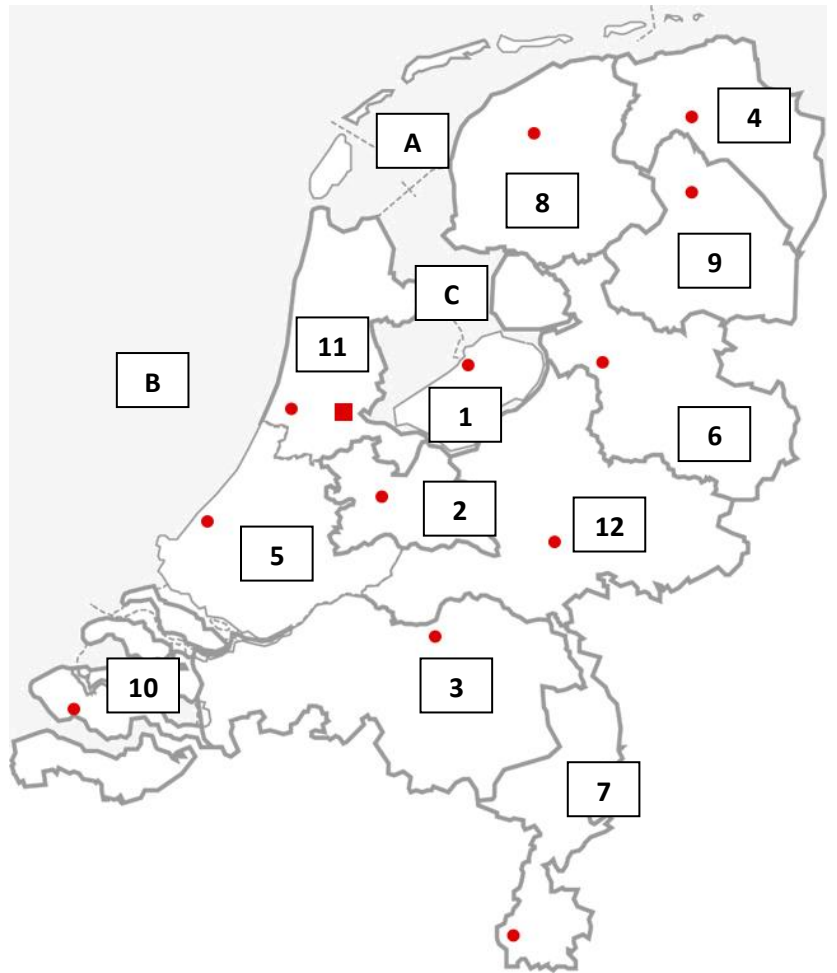
Vul de namen van de provincies en hoofdsteden bij het juiste nummer in.

### Wateren

A.

B.

C.



Provincie	Hoofdstad
1.	
2.	
3.	
4.	
5.	
6.	
7.	
8.	
9.	
10.	
11.	
12.	

## ★ Topokaart 5

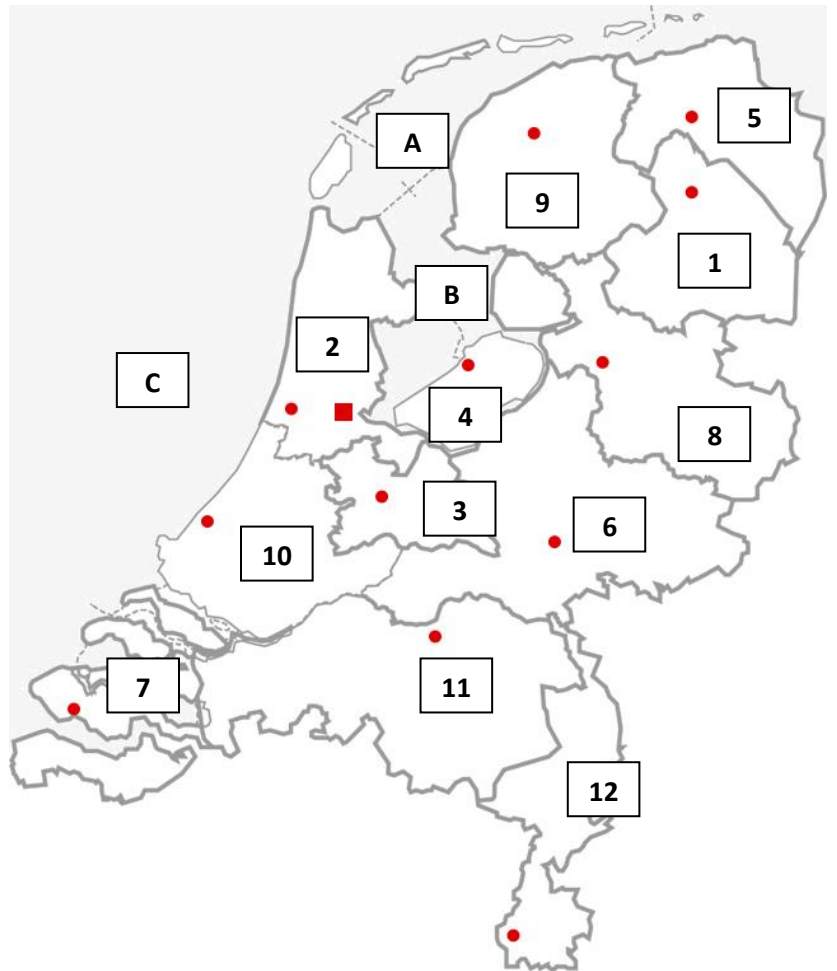
Vul de namen van de provincies en hoofdsteden bij het juiste nummer in.

### Wateren

A.

B.

C.



Provincie	Hoofdstad
1.	
2.	
3.	
4.	
5.	
6.	
7.	
8.	
9.	
10.	
11.	
12.	

## ★ Topokaart 1 (Antwoorden)

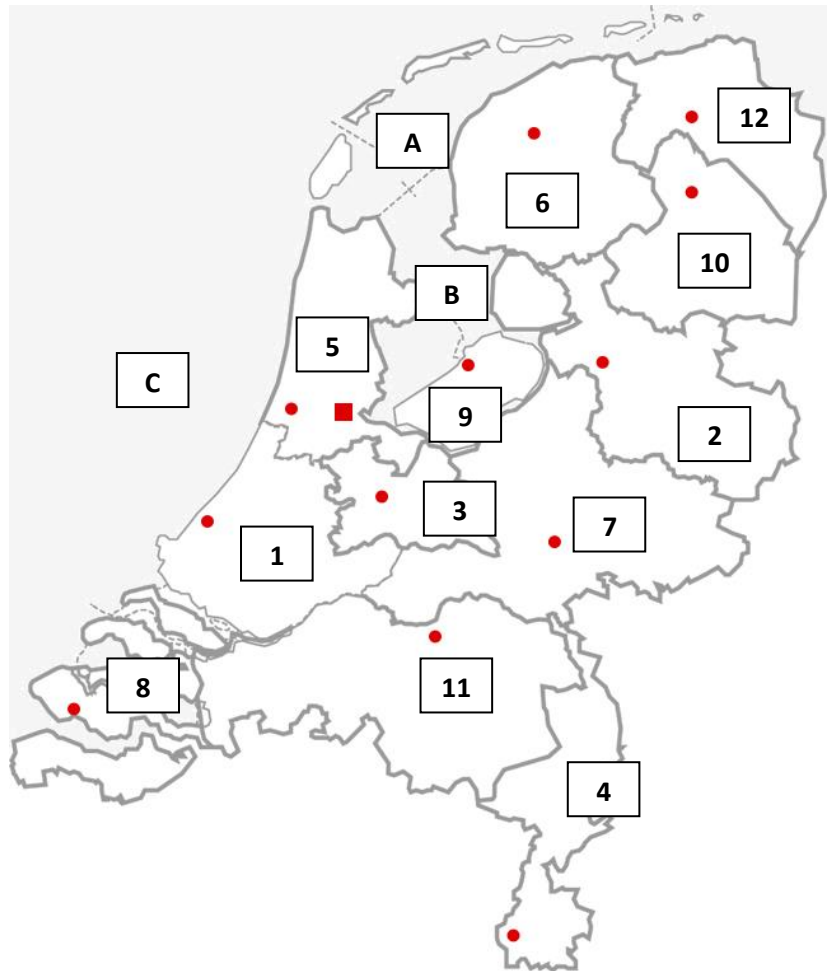
Vul de namen van de provincies en hoofdsteden bij het juiste nummer in.

### Wateren

A. **Waddenzee**

B. **IJsselmeer**

C. **Noordzee**



Provincie	Hoofdstad
1. <b>Zuid-Holland</b>	<b>Den Haag</b>
2. <b>Overijssel</b>	<b>Zwolle</b>
3. <b>Utrecht</b>	<b>Utrecht</b>
4. <b>Limburg</b>	<b>Maastricht</b>
5. <b>Noord-Holland</b>	<b>Haarlem</b>
6. <b>Friesland</b>	<b>Leeuwarden</b>
7. <b>Gelderland</b>	<b>Arnhem</b>
8. <b>Zeeland</b>	<b>Middelburg</b>
9. <b>Flevoland</b>	<b>Lelystad</b>
10. <b>Drenthe</b>	<b>Assen</b>
11. <b>Noord-Brabant</b>	<b>'s-Hertogenbosch</b>
12. <b>Groningen</b>	<b>Groningen</b>





## ★ Topokaart 2 (Antwoorden)

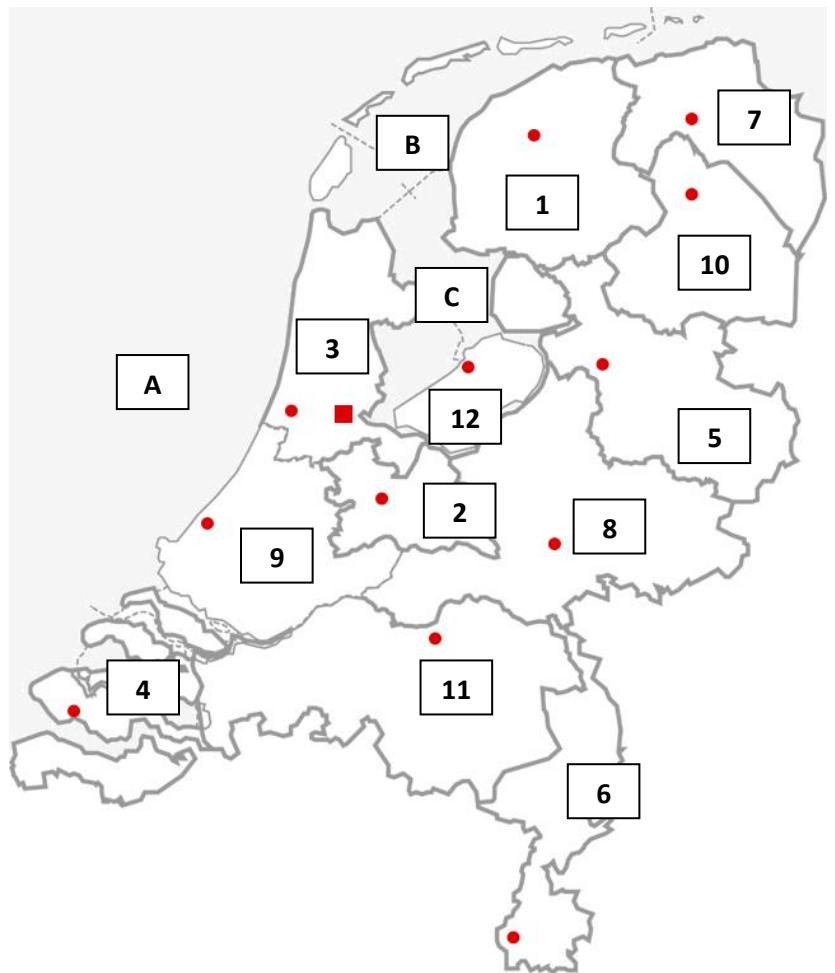
Vul de namen van de provincies en hoofdsteden bij het juiste nummer in.

### Wateren

A. Noordzee

B. Waddenzee

C. IJsselmeer



Provincie	Hoofdstad
1. Friesland	Leeuwarden
2. Utrecht	Utrecht
3. Noord-Holland	Haarlem
4. Zeeland	Middelburg
5. Overijssel	Zwolle
6. Limburg	Maastricht
7. Groningen	Groningen
8. Gelderland	Arnhem
9. Zuid-Holland	Den Haag
10. Drenthe	Assen
11. Noord-Brabant	's-Hertogenbosch
12. Flevoland	Lelystad

## ★ Topokaart 3 (Antwoorden)

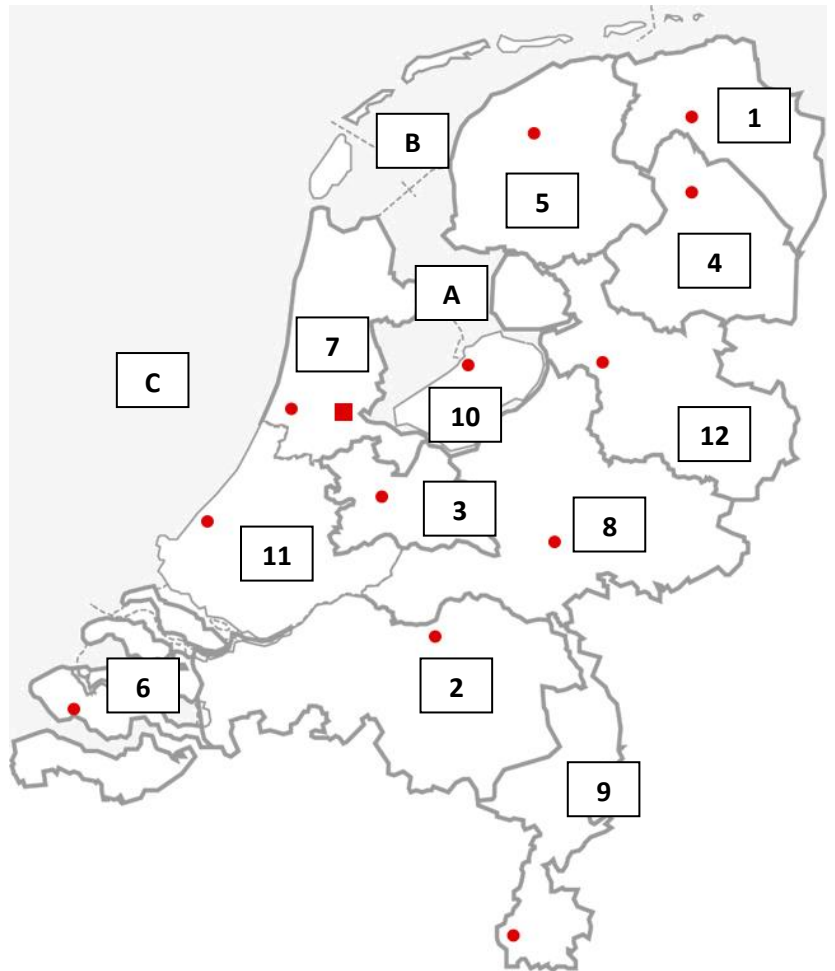
Vul de namen van de provincies en hoofdsteden bij het juiste nummer in.

### Wateren

A. IJsselmeer

B. Waddenzee

C. Noordzee



Provincie	Hoofdstad
1. Groningen	Groningen
2. Noord-Brabant	's-Hertogenbosch
3. Utrecht	Utrecht
4. Drenthe	Assen
5. Friesland	Leeuwarden
6. Zeeland	Middelburg
7. Noord-Holland	Haarlem
8. Gelderland	Arnhem
9. Limburg	Maastricht
10. Flevoland	Lelystad
11. Zuid-Holland	Den Haag
12. Overijssel	Zwolle



## ★ Topokaart 4 (Antwoorden)

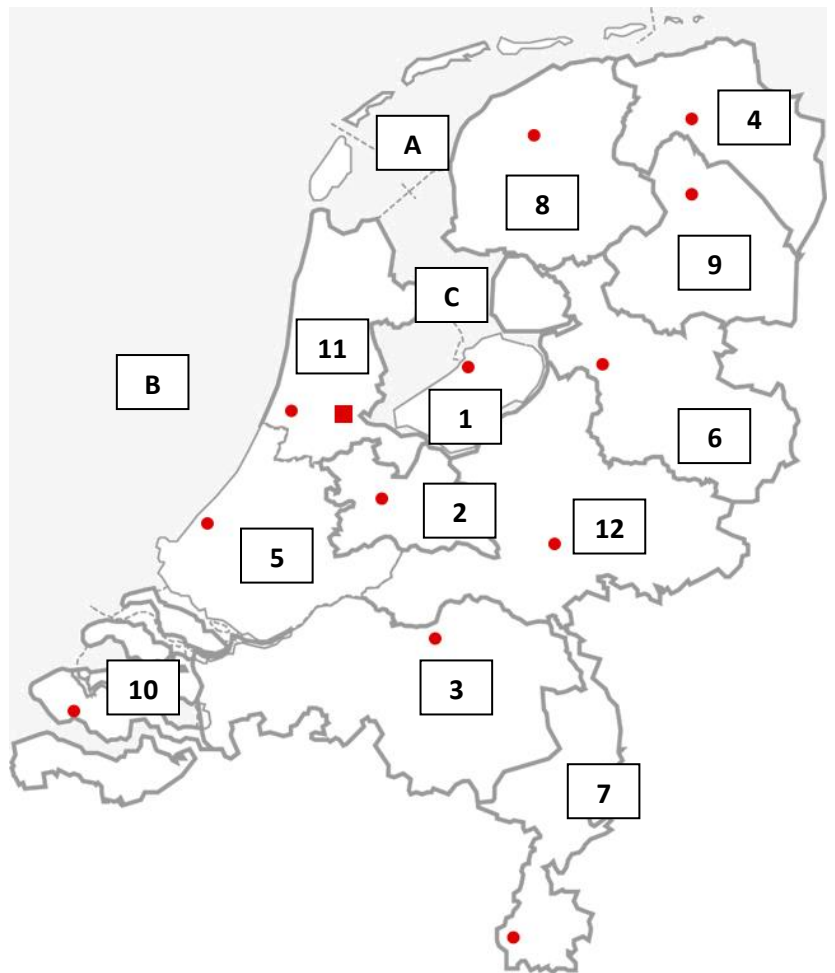
Vul de namen van de provincies en hoofdsteden bij het juiste nummer in.

### Wateren

A. **Waddenzee**

B. **Noordzee**

C. **IJsselmeer**



	Provincie	Hoofdstad
1.	<b>Flevoland</b>	<b>Lelystad</b>
2.	<b>Utrecht</b>	<b>Utrecht</b>
3.	<b>Noord-Brabant</b>	<b>'s-Hertogenbosch</b>
4.	<b>Groningen</b>	<b>Groningen</b>
5.	<b>Zuid-Holland</b>	<b>Den Haag</b>
6.	<b>Overijssel</b>	<b>Zwolle</b>
7.	<b>Limburg</b>	<b>Maastricht</b>
8.	<b>Friesland</b>	<b>Leeuwarden</b>
9.	<b>Drenthe</b>	<b>Assen</b>
10.	<b>Zeeland</b>	<b>Middelburg</b>
11.	<b>Noord-Holland</b>	<b>Haarlem</b>
12.	<b>Gelderland</b>	<b>Arnhem</b>

## ★ Topokaart 5 (Antwoorden)

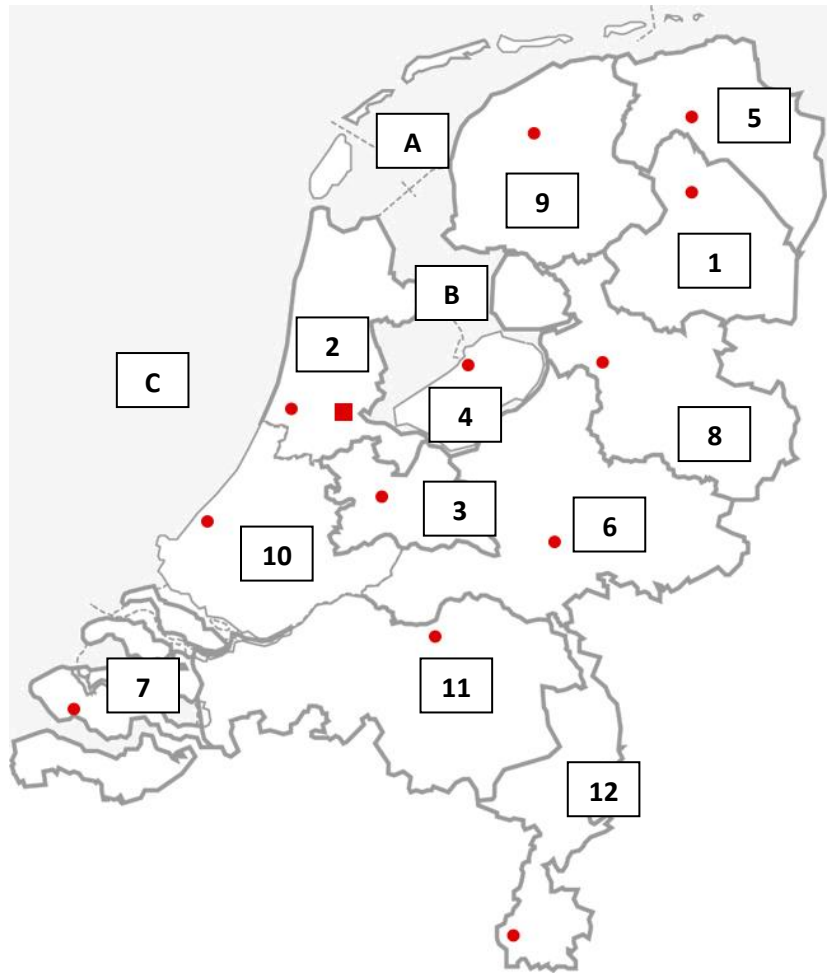
Vul de namen van de provincies en hoofdsteden bij het juiste nummer in.

### Wateren

A. **Waddenzee**

B. **IJsselmeer**

C. **Noordzee**



Provincie	Hoofdstad
1. <b>Drenthe</b>	<b>Assen</b>
2. <b>Noord-Holland</b>	<b>Haarlem</b>
3. <b>Utrecht</b>	<b>Utrecht</b>
4. <b>Flevoland</b>	<b>Lelystad</b>
5. <b>Groningen</b>	<b>Groningen</b>
6. <b>Gelderland</b>	<b>Arnhem</b>
7. <b>Zeeland</b>	<b>Middelburg</b>
8. <b>Overijssel</b>	<b>Zwolle</b>
9. <b>Friesland</b>	<b>Leeuwarden</b>
10. <b>Zuid-Holland</b>	<b>Den Haag</b>
11. <b>Noord-Brabant</b>	<b>'s-Hertogenbosch</b>
12. <b>Limburg</b>	<b>Maastricht</b>



## ★ Online oefenen

Natuurlijk kun je ook op internet de hoofdsteden en de provincies oefenen. Hieronder een aantal sites waar dat goed mee kan!

Scan de QR-code, klik op de link of vul 'm bovenaan in het venster van de browser in en je kunt aan de slag.



### Topomania

Op de website van de Topomania kun je de topografie van de provincies en hun hoofdsteden op verschillende manieren oefenen:

- Aanwijzen
- Slepen
- Invullen
- Meerkeuze

De site houdt niet alleen bij hoeveel je er goed had, maar ook hoeveel tijd je nodig hebt om alle vragen te beantwoorden.



<https://bit.ly/2YHiID3>



### Topografie Nederland

Ken je de provincies al, maar heb je nog moeite met de hoofdsteden? Of wil je eerst de provincies goed oefenen en dan beginnen met de hoofdsteden.

Op de site van Topografie Nederland kun je kiezen of je de provincies of de hoofdsteden wilt oefenen.



<https://bit.ly/2LZHIZN>